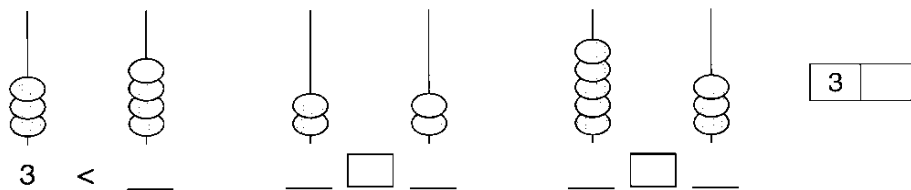


## Бројеви до 5, <, >, +, -, =

Разред: \_\_\_\_\_ Збир бодова: \_\_\_\_\_  
(Име и презиме ученика)

1. Према слици упиши бројеве и знаке <, > или = :




2. Упиши у  знаке <, > или = :

3  4    5  4    2  3    4  4    3  1    

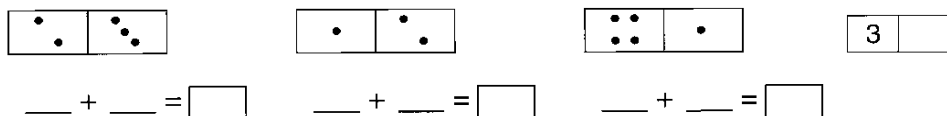
3. Повежи бројеве и одговарајуће речи:

2          четврти  
4.          два  
5          пет  
3.          трећи

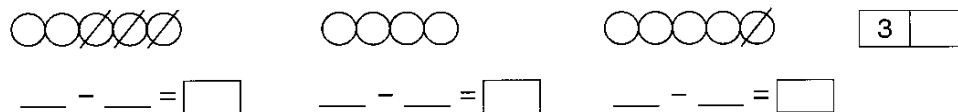
4. Обој сличице према датом броју.



5. Према цртежу напиши једнакост. Израчунај.



6. Према цртежу напиши једнакост. Израчунај.



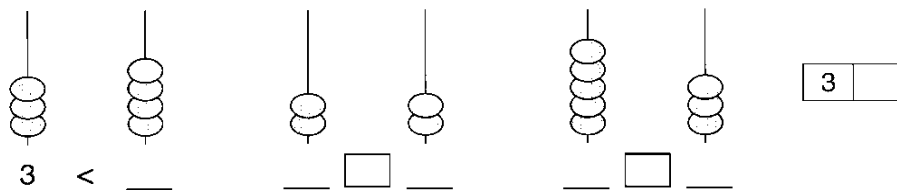
7. Упиши знак <, > или = :

1 + 1  2    4  4 + 1    5 - 1  3    5  2 + 3    

## Бројеви до 5, <, >, +, -, =

Разред: \_\_\_\_\_ Збир бодова: \_\_\_\_\_  
(Име и презиме ученика)

1. Према слици упиши бројеве и знаке <, > или = :




2. Упиши у  знаке <, > или = :

3  4    5  4    2  3    4  4    3  1    

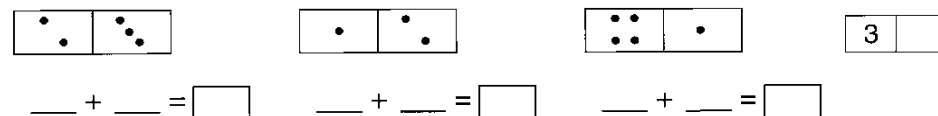
3. Повежи бројеве и одговарајуће речи:

2          четврти  
4.          два  
5          пет  
3.          трећи

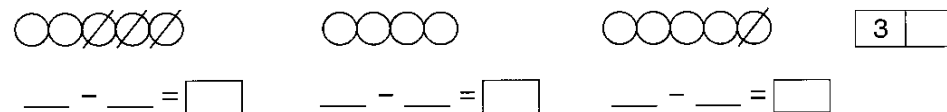
4. Обој сличице према датом броју.



5. Према цртежу напиши једнакост. Израчунај.



6. Према цртежу напиши једнакост. Израчунај.



7. Упиши знак <, > или = :

1 + 1  2    4  4 + 1    5 - 1  3    5  2 + 3