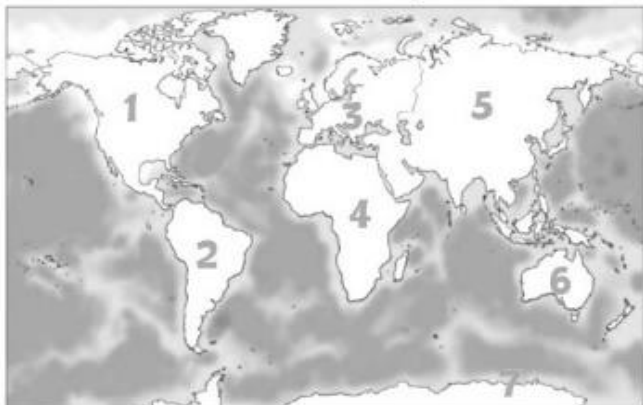


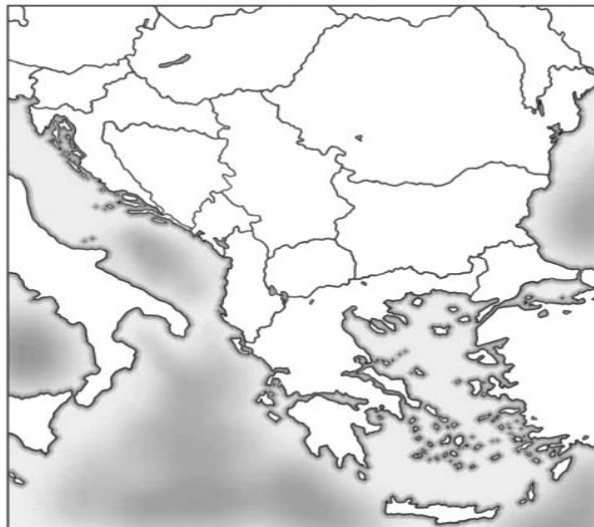
## Географски положај Србије

1. У кружиће испред назива континената упиши одговарајуће бројеве којима су они означени на карти.



- Европа    Азија    Африка    Антарктик  
 Аустралија    Северна Америка    Јужна Америка

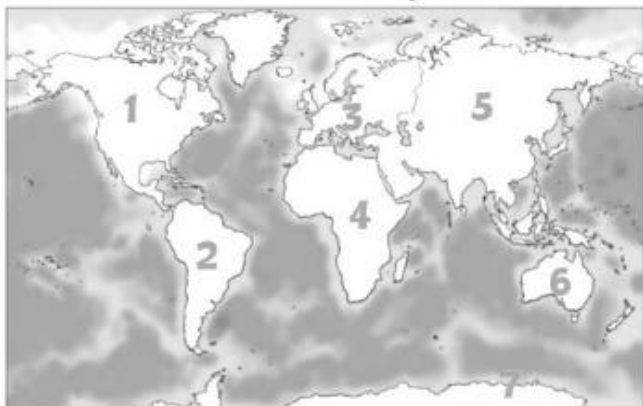
2. Обој на карти Балканског полуострва територију Србије црвеном бојом, а територије суседних држава различитим бојама.



3. Република Србија се налази у \_\_\_\_\_ делу Европе.

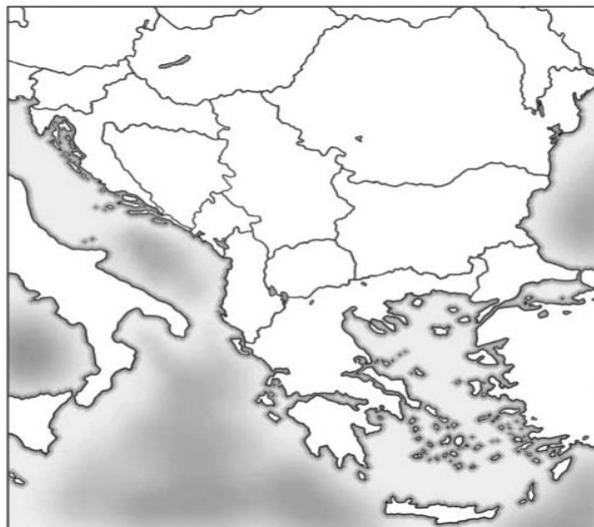
## Географски положај Србије

1. У кружиће испред назива континената упиши одговарајуће бројеве којима су они означени на карти.



- Европа    Азија    Африка    Антарктик  
 Аустралија    Северна Америка    Јужна Америка

2. Обој на карти Балканског полуострва територију Србије црвеном бојом, а територије суседних држава различитим бојама.



3. Република Србија се налази у \_\_\_\_\_ делу Европе.