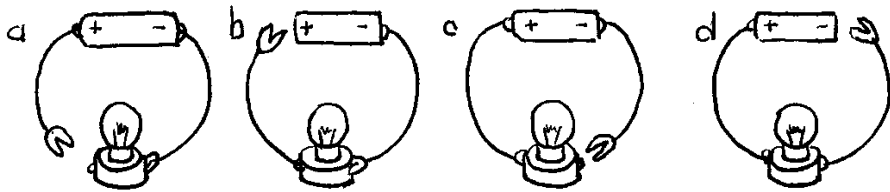
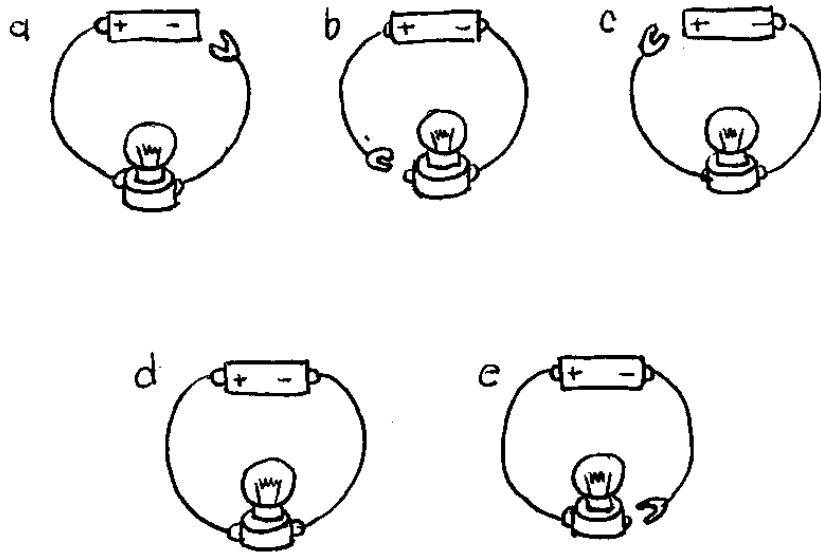


| предмет | материјал | Проводи струју | Не проводи струју |
|---------|-----------|----------------|-------------------|
| ОЛОВКА  |           |                |                   |
| ГУМИЦА  |           |                |                   |
| ЦЕВЧИЦА |           |                |                   |
| ПРСТЕН  |           |                |                   |

1. Пронађи проблем који онемогућава да сијалица светли у овим струјним колима и заокружи га.

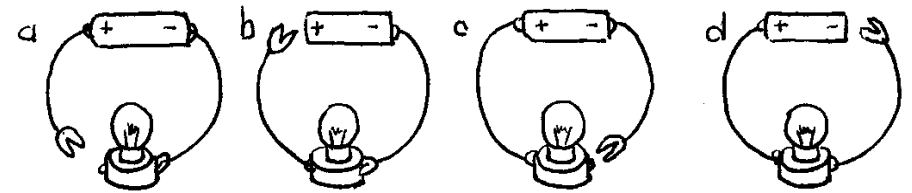


2. Обој сијалицу жутом бојом тамо где су делови струјног кола правилно повезани и где ће сијалица засветлети.



| предмет | материјал | Проводи струју | Не проводи струју |
|---------|-----------|----------------|-------------------|
| ОЛОВКА  |           |                |                   |
| ГУМИЦА  |           |                |                   |
| ЦЕВЧИЦА |           |                |                   |
| ПРСТЕН  |           |                |                   |

1. Пронађи проблем који онемогућава да сијалица светли у овим струјним колима и заокружи га.



2. Обој сијалицу жутом бојом тамо где су делови струјног кола правилно повезани и где ће сијалица засветлети.

