



1. Допуни:

3 3 3

1 2 3 1 2 3

3 2 1 3 2 1



● ● ●

1 1 1


2 1

3 3

2. Нацртај онолико чланова скупа означено бројевима.

	2
	3
	3
	2

3. Обој лептириће који на сваком колико је крилу имају по три тачкице.



1. Допуни:

3 3 3

1 2 3 1 2 3

3 2 1 3 2 1


● ● ●

1 1 1

2 1

3 3

2. Нацртај онолико чланова скупа означено бројевима.

	2
	3
	3
	2

3. Обој лептириће који на сваком колико је крилу имају по три тачкице.

