

Прва провера знања
Предмети у простору. Линија и област (група Б)

(Име и презиме)

(Датум израде контролне вежбе)


1. * Обој онога ко је испред Бамбија, а заокружи онога ко је изнад Твора.
* Иза Бамбија нацртај печурку.
* Испод лептира нацртај лептира.




2. Црвеном бојом обој балоне
које девојчица држи у левој руци.



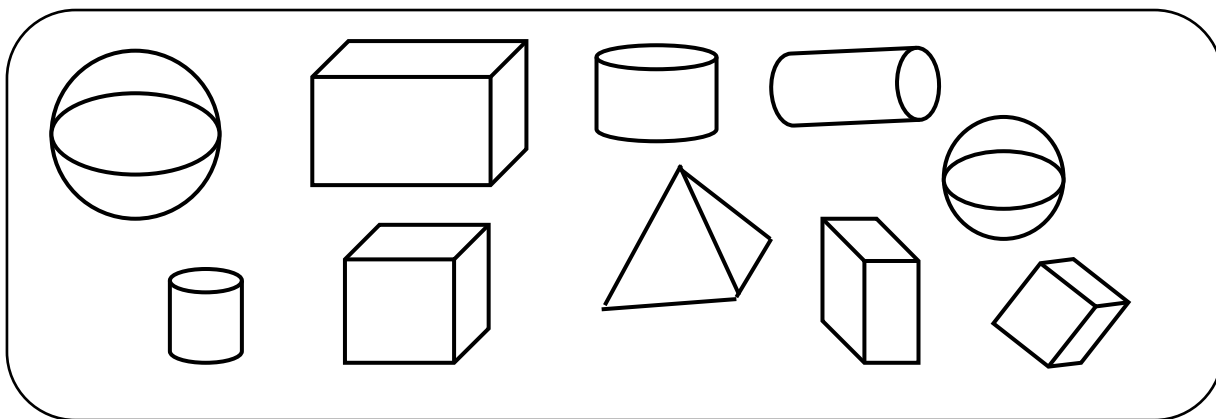
3. Доле десно нацртај облак.
Горе лево нацртај лептира.
Горе десно нацртај сунце.
Доле лево нацртај цвет.



4. Кругове обој зелено, квадрате плаво, а троуглове црвено.



5. Лопте обој зелено, коцке црвено, а ваљке плаво.



6. Нацртај изломљене линије:

отворену

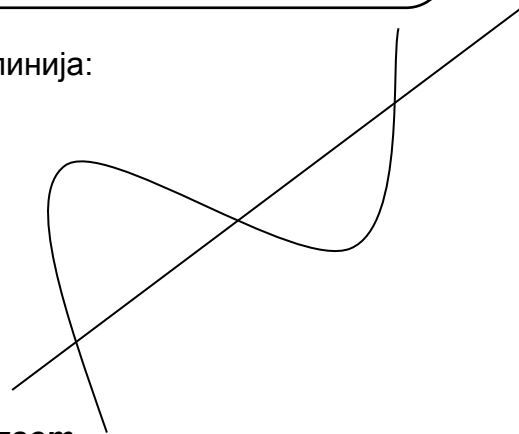
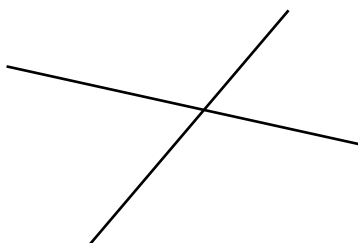

7. Нацртај криве линије:

отворену

затворену

затворену

8. Обележи тачке пресека које уочаваш у пресеку нацртаних линија:



Прва провера знања: Предмети у простору. Линија и област.

Шта смо проверавали?

Ученик уме да:	Коментар:
1. Одреди положај предмета: горе, доле.	
2. Одреди положај предмета : изнад, испод.	
3. Одреди положај предмета: испред, иза.	
4. Одреди положај предмета у односу на себе: лево, десно.	
5. Одреди положај предмета у односу на другу особу: лево, десно.	
6. Препозна геометријске фигуре (круг, квадрат, правоугаоник, троугао).	
7. Препозна геометријска тела (лопта, ваљак, купа, пирамида).	
8. Црта криве и изломљене линије поштујући захтеве (отворена, затворена).	
9. Обележи тачке у пресеку линија.	
Датум израде контролне вежбе:	