


Колико је цветова у башти?

$$5 \cdot 3 + 2$$

$$5 \cdot 3 + 2 = 15 + 2 = 17 \checkmark$$

~~$$5 \cdot 3 + 2 = 5 \cdot 5 = 25$$~~

Множење има предност!




Колико је цветова у башти?

$$5 \cdot 3 + 2$$

$$5 \cdot 3 + 2 = 15 + 2 = 17 \checkmark$$

~~$$5 \cdot 3 + 2 = 5 \cdot 5 = 25$$~~

Множење има предност!




Колико је цветова у башти?

$$5 \cdot 3 + 2$$

$$5 \cdot 3 + 2 = 15 + 2 = 17 \checkmark$$

~~$$5 \cdot 3 + 2 = 5 \cdot 5 = 25$$~~

Множење има предност!



Колико је цветова у башти?

$$5 \cdot 3 + 2$$

$$5 \cdot 3 + 2 = 15 + 2 = 17 \checkmark$$

~~$$5 \cdot 3 + 2 = 5 \cdot 5 = 25$$~~

Множење има предност!

