
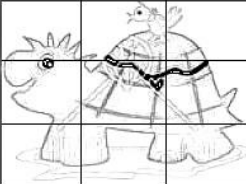

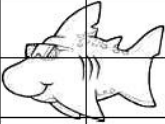

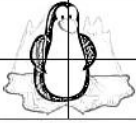










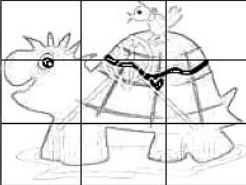

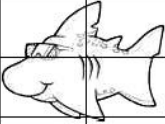

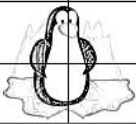

Откриј правило по ком су записани бројеви у овој табели, а затим напиши бројеве који се крију иза сличица.







330			380			420
						
						

	___		___
	___		___
	___	___	___
	___		___
	___		___
	___		___
	___	___	___
	___		___

Напиши најмањи и највећи број који се крије иза слике корњаче. \_\_\_\_\_


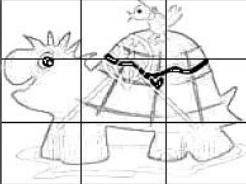

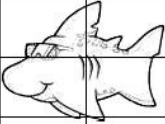

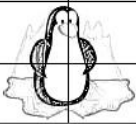

Откриј правило по ком су записани бројеви у овој табели, а затим напиши бројеве који се крију иза сличица.







330			380			420
						
						

	___		___
	___		___
	___	___	___
	___		___
	___		___
	___		___
	___	___	___
	___		___

Напиши најмањи и највећи број који се крије иза слике корњаче. \_\_\_\_\_

Откриј правило по ком су записани бројеви у овој табели, а затим напиши бројеве који се крију иза сличица.

330			380			420
						
						

	___		___
	___		___
	___	___	___
	___		___
	___		___
	___		___
	___	___	___
	___		___

Напиши најмањи и највећи број који се крије иза слике корњаче. \_\_\_\_\_